

ECONOMIE & SOCIÉTÉ

SÉRIE

2

PROFIL B

Durée totale de l'épreuve :	180 minutes
Moyens auxiliaires autorisés :	Calculatrice non programmable Codes suisses sous forme papier : Cst., CO, CC, LP, ORC, LCC ou CC, <i>CO Edition pour les études de commerce</i>
Annexe :	Index officiel CO et CCS (annexé en dernière page)

Numéro de candidat-e

Nom

Prénom

Date de l'examen

Points obtenus / points maximum

Total

/ 150

Note obtenue

SIGNATURES DES EXPERTS

Délai de libération : Cette série d'examen ne doit pas être utilisée comme exercice avant le **1^{er} janvier 2018.**

Remarques concernant les moyens auxiliaires autorisés :**Sont également autorisés :**

- l'utilisation de marque-pages ou post-it vierges ;
- le soulignement et/ou surlignage.

Sont interdits :

- les notes personnelles (y c. les effacements à l'aide de Tipp-Ex et autres produits semblables) ;
- les renvois à d'autres articles.

Echelle de notes :Nombre maximal de points : **150 points**

Note	Points
6	142,5 – 200
5,5	127,5 – 142
5	112,5 – 127
4,5	97,5 – 112
4	82,5 – 97
3,5	67,5 – 82
3	52,5 – 67
2,5	37,5 – 52
2	22,5 – 37
1,5	7,5 – 22
1	0 – 7

PARTIE 1 : CAS PRATIQUE : Beautifulgarden SA

			Points obtenus	Points maximum
1.5.2	Economie d'entreprise	Objectifs		20 points
1	Financement et placements	1.5.2.9		6
2	Structure organisationnelle	1.5.2.4		7
3	Marketing	1.5.2.6, 1.5.2.7		7
1.5.1	Rapports financiers	Objectifs		15 points
4	Changes	1.5.1.4		3
5	Intérêts	1.5.1.3		2
6	TVA	1.5.1.5		6
7	Analyse de bilan et du résultat	1.5.1.14, 1.5.1.15		4
1.5.3	Droit et Etat	Objectifs		20 points
8	Contrats	1.5.3.4, 1.5.3.5, 1.5.3.6		20

PARTIE 2 : QUESTIONS DIVERSES

1.5.1	Rapports financiers	Objectifs		25 points
9	Journal	1.5.1.1, 1.5.1.2, 1.5.1.3, 1.5.1.8		12
10	Clôture d'une entreprise individuelle	1.5.1.12		13
1.5.2	Economie d'entreprise	Objectifs		20 points
11	Valeurs fondamentales / Concept d'entreprise	1.5.2.3		4
12	Environnement de l'entreprise	1.5.2.1, 1.5.2.2		5
13	Compétence méthodologique	1.5.2.10		2
14	Assurances	1.5.2.8		9
1.5.3	Droit et Etat	Objectifs		20 points
15	Droit public	1.5.3.1		5
16	Procédure législative	1.5.3.2		6
17	Droit privé	1.5.3.1		9
1.5.4	Economie générale et société	Objectifs		30 points
18	Besoins et types de biens	1.5.4.1		5
19	Circuit économique, prestations économiques	1.5.4.2		3
20	Economie de marché	1.5.4.3		4
21	Croissance et changement structurel	1.5.4.4		3
22	Cycle conjoncturel	1.5.4.5		2
23	Globalisation	1.5.4.7		2
24	Chômage	1.5.4.8		2
25	Déséquilibre des masses monétaires	1.5.4.9		3
26	Partis politiques	1.5.4.13		6
	Total			150 points

PARTIE 1 : CAS PRATIQUE

Situation initiale

Beautifulgarden SA, active dans le secteur du jardinage, exploite en Suisse romande divers magasins.

Elle vend des produits liés aux espaces verts et loue ses services pour tous travaux de jardinage et d'entretien d'aménagements extérieurs.

1. Financement et placement

points

/ 6

1. Beautifulgarden SA désire acquérir un nouvel immeuble pour son département administration et va donc avoir recours à un emprunt bancaire. Comment nomme-t-on ce crédit ? (1 point)

2. En tant que société anonyme, Beautifulgarden SA se compose d'un certain nombre d'actionnaires. Classez les droits des actionnaires en cochant la bonne colonne. (4 points)

	Droits patrimoniaux	Droits sociaux
Droit à une part du produit de la liquidation		
Droit de souscription à de nouvelles actions lors de l'augmentation du capital		
Droit au dividende		
Droit de participer à l'assemblée générale		
Droit de vote		
Droit d'élire un membre du conseil d'administration		
Droit d'attaquer les décisions contraires à la loi		
Droit de contrôle du bilan et du compte de résultat		

3. Qu'est-ce qu'un dividende ? (1 point)

2. Structure organisationnelle

points

/ 7

1. Indiquez une activité par fonction présente dans l'organigramme de Beautifulgarden SA. (4 points)

a) Ressources humaines :

b) Production :

c) Administration et comptabilité :

d) Marketing :

2. Citez un exemple d'états-majors (staff) que Beautifulgarden SA pourrait créer dans son organisation. (1 point)

3. Beautifulgarden SA décide d'engager un apprenti de commerce. Avant de recruter, l'entreprise établit une description de poste. A part les qualifications et qualités personnelles de l'apprenti, indiquez deux éléments faisant partie de la description de poste. (2 points)

3. Marketing

points

/ 7

Beautifulgarden SA effectue une étude de marché pour lancer son secteur animalerie.

1. Citez deux possibilités de public cible pour le secteur animalerie. (2 points)

2. Nommez l'élément du marketing mix (4P) correspondant à la définition donnée qui se rattache au secteur animalerie « petits rongeurs ». (4 points)

.....
Rabais pour un ensemble animal-cage, rabais de quantité, paiement par mensualité, ...	Magasin, rayon, internet, ...	Cages, nourritures, gamelles, litières, roues de jeux, divers animaux, ...	Flyer tout ménage, spot TV locale, carte de fidélité, ...

3. Les ventes des plantes aromatiques sont en phase de déclin. Indiquez une proposition pour relancer ces ventes. (1 point)

4. Changes

points

/ 3

Beautifulgarden SA achète des bonsaïs en pot qu'elle revend à la pièce dans ses magasins. Elle se fournit auprès d'un cultivateur au Japon. Les paiements se font par virement bancaire.

Le prix d'achat pour 10 bonsaïs de Zelkova est de JPY 305 680.

Le tableau des changes affiche les cours suivants :

	Billets		Devises	
	Achat	Vente	Achat	Vente
JPY	0.8960	0.9856	0.9260	0.9572

Calculez le prix d'achat d'un bonsaï en francs suisses. *Arrondir aux 5 centimes.* (3 points)

5. Intérêts

points

/ 2

1. Beautifulgarden SA souhaite changer l'agencement de son magasin. Le directeur contacte son banquier qui lui propose un taux de 2.5 % pour un emprunt de CHF 180 000.–. Combien lui coûtera ce crédit par semestre ? (1 point)

2. Une banque concurrente propose un taux inférieur de 0.25 %. Combien Beautifulgarden SA va-t-elle économiser par année en choisissant cette proposition ? (1 point)

6. TVA

points

/ 6

Beautifulgarden SA journalise les opérations concernant la TVA selon la méthode au net. Déterminez l'opération correcte à journaliser en cochant le(s) compte(s) utilisé(s) au débit et au crédit, ainsi que le montant adéquat en rapport avec la donnée.

1. Beautifulgarden SA comptabilise l'achat à crédit de meubles de jardin destinés à la vente, CHF 55 080.–, TVA comprise. (1.5 point)

Compte(s) à débiter	Compte(s) à créditer
<input type="checkbox"/> ACE	<input type="checkbox"/> ACE
<input type="checkbox"/> Banque	<input type="checkbox"/> Banque
<input type="checkbox"/> Créances clients	<input type="checkbox"/> Créances clients
<input type="checkbox"/> Dettes fournisseurs	<input type="checkbox"/> Dettes fournisseurs
<input type="checkbox"/> TVA due	<input type="checkbox"/> TVA due
<input type="checkbox"/> IP s/marchandises et services	<input type="checkbox"/> IP s/marchandises et services
<input type="checkbox"/> IP s/investissements et ACE	<input type="checkbox"/> IP s/investissements et ACE
<input type="checkbox"/> Achats de marchandises	<input type="checkbox"/> Achats de marchandises
<input type="checkbox"/> Ventes de marchandises	<input type="checkbox"/> Ventes de marchandises

Quel est le montant de l'impôt (TVA) ? (1 point)

- CHF 4 406.40
- CHF 4 080.00
- CHF 55 080.00
- CHF 51 000.00

2. Beautifulgarden SA paie par virement bancaire la facture non comptabilisée d'électricité pour le magasin, CHF 2 200.–, TVA non comprise. (1.5 point)

Compte(s) à débiter	Compte(s) à créditer
<input type="checkbox"/> ACE	<input type="checkbox"/> ACE
<input type="checkbox"/> Banque	<input type="checkbox"/> Banque
<input type="checkbox"/> Créances clients	<input type="checkbox"/> Créances clients
<input type="checkbox"/> Dettes fournisseurs	<input type="checkbox"/> Dettes fournisseurs
<input type="checkbox"/> TVA due	<input type="checkbox"/> TVA due
<input type="checkbox"/> IP s/marchandises et services	<input type="checkbox"/> IP s/marchandises et services
<input type="checkbox"/> IP s/investissements et ACE	<input type="checkbox"/> IP s/investissements et ACE
<input type="checkbox"/> Achats de marchandises	<input type="checkbox"/> Achats de marchandises
<input type="checkbox"/> Ventes de marchandises	<input type="checkbox"/> Ventes de marchandises

Quel est le montant payé par virement bancaire ? (1 point)

- CHF 2 037.05
- CHF 2 200.00
- CHF 2 376.00
- CHF 2 383.60

3. Reliez, à l'aide d'un trait, les comptes avec leur nature. (1 point)

Comptes	Nature de comptes
	<input type="checkbox"/> Actif
IP s/marchandises et services <input type="checkbox"/>	<input type="checkbox"/> Passif
TVA due <input type="checkbox"/>	<input type="checkbox"/> Charge
	<input type="checkbox"/> Produit

7. Analyse du bilan et du résultat

points

/ 4

1. Le ratio « Liquidités 2 » de Beautifulgarden SA est calculé ci-dessous, cochez la valeur indicative désirée (norme) et choisissez le commentaire approprié en cochant la bonne case. (1 point)

Nom du ratio et formule	Calcul et résultat du ratio
Liquidités 2 <i>(Liquidités + Créances) x 100</i> <i>Capitaux étrangers à court terme</i>	748 %

Valeur indicative désirée : 100 % 1000 %

Commentaires :

- Il y a trop de liquidités et de créances par rapport au besoin de financement à court terme.
- Il n'y a pas assez de liquidités et de créances par rapport au besoin de financement à court terme.

Le président du Conseil d'administration vous présente le compte de résultat de l'exercice 2016 :

Compte de résultat analytique 2016	Montant
Chiffre d'affaires net (CAN)	10 980 000.–
./. Charges de marchandises (PRAMV)	- 4 941 000.–
= Résultat brut (Marge brute ou Bénéfice brut)	6 039 000.–
./. Charges de personnel	- 3 560 000.–
./. Autres charges d'exploitation	- 1 820 500.–
= Résultat d'exploitation avant intérêts, impôts et amortissements	658 500.–
./. Amortissements	- 170 000.–
= Résultat d'exploitation avant intérêts et impôts	488 500.–
./. Charges financières	- 240 000.–
= Bénéfice net d'exercice (ou Marge nette)	248 500.–

2. Indiquez l'abréviation en anglais utilisée pour représenter l'expression « Résultat d'exploitation avant intérêts et impôts ». (1 point)

Sur la base du compte de résultat 2016

3. Calculez le ratio « Taux de marge brute ». *Arrondir la réponse à l'unité.* (1 point)

Nom du ratio	Beautifulgarden SA
Taux de marge brute : $\frac{\text{Marge brute} \times 100}{\text{Chiffre d'affaires net}}$	

4. Calculez la rentabilité des fonds propres de Beautifulgarden SA. *Arrondir la réponse à l'unité.* (1 point)

Au 31.12.2015, les capitaux propres s'élevaient à CHF 2 189 500.– et au 31.12.2016 ils s'élèvent à CHF 2 438 000.–.

Nom du ratio	Beautifulgarden SA
Rentabilité des fonds propres : $\frac{\text{Bénéfice net d'exploitation} \times 100}{\text{Moyenne des capitaux propres}}$	

8. Contrats

points

/ 20

1. Beautifulgarden SA désire engager un apprenti, Bastien 18 ans, du 1er août 2017 au 31 juillet 2020. Le département RH se pose les questions suivantes :

- a) Quelle devra être la forme de ce contrat de travail ? (1 point)

- b) Combien de vacances au minimum la société devra-t-elle accorder la première année de service ? (1 point)

- c) Quelle sera la durée maximale du temps d'essai qui pourra être prévue dans le contrat de travail ? (1 point)

2. Adrien, 23 ans, est employé comme jardinier depuis 8 mois. Le week-end dernier, il a été victime d'un accident provoqué par un chauffeur ivre. Il a plusieurs côtes cassées, un traumatisme crânien et une fracture du bassin. Il sera donc absent du travail pendant 3 mois.

Quel sera son droit au salaire pendant cette absence sachant que l'entreprise ne dispose d'aucune assurance dans ce domaine ? (1 point)

3. Agnès, qui travaille comme fleuriste pour Beautifulgarden SA, totalise 26 heures supplémentaires. Elle aimerait bien que ces heures lui soient payées, mais son chef aimerait qu'elle les récupère en prenant des congés pour une même durée. Qui décide ? Expliquez votre réponse. (2 points)

4. Pour Noël 2016, les employés ont touché une gratification exceptionnelle. Laureen, qui a été licenciée avec effet au 30 juin 2017, se demande si elle touchera une part proportionnelle de cette gratification en 2017 sachant que rien n'a été convenu à ce sujet. Vous lui répondez. Expliquez votre réponse. (2 points)

5. Beautifulgarden SA loue un terrain, à usage non commercial, juste à côté de l'un de ses magasins. Ce terrain est utilisé pour entreposer les machines de terrassement.

Le contrat a été conclu le 1er mars 1998. Comme la société a pu récemment acheter un autre terrain de l'autre côté du magasin, elle souhaite résilier ce contrat de bail. Si elle fait parvenir la résiliation le 3 juin 2017, à quelle date prendra fin le contrat ? Expliquez. (2 points)

6. Agnès, employée de Beautifulgarden SA, loue une chambre meublée. Le bail a été conclu le 1er avril 2016.

a) Quelle forme devrait-elle observer pour résilier son contrat ? (1 point)

b) Si elle décidait le 5 juin 2017 de résilier ce contrat, à quelle date prendrait fin ce bail ? Expliquez. (2 points)

7. Un client a passé une commande via le site de commande en ligne de Beautifulgarden SA.

Voici la capture d'écran :

> Boutique en ligne

Promotions et nouveautés

Arbres, plantes et rosiers

Plantes artificielles

Outils pour le jardin

Matériel d'arrosage

Mobilier Eternit et spa






Pots, vases et bacs

Gazon, semis, terreaux et engrais


Produits de traitements


Littérature


🛒 Votre panier


	Produit	Quantité	CHF	Total
	Acapella	1	CHF 20.50	CHF 20.50
	Baronne E. de Rothschild	1	CHF 20.50	CHF 20.50
	Charlie Chaplin	1	CHF 20.50	CHF 20.50
	Christophe Colomb	1	CHF 20.50	CHF 20.50
	Francia	1	CHF 20.50	CHF 20.50
Total			(TVA 8% incluse) :	CHF 102.50


Retour
Continuer
(vers le paiement)



Livraison rapide maximum 10j


Garantie satisfait ou remboursé


Paiement sécurisé


Frais de port offerts dès CHF 290.-


Transport protégé


Qualité professionnelle

Répondez aux questions suivantes :

a) Qui paie les frais de port qui se montent à CHF 20.– ? Justifiez votre réponse. (2 points)

b) Qui paiera l'emballage des plantes ? (1 point)

- c) Trois semaines après la commande, le client n'est toujours pas livré. Peut-il se départir du contrat sans autre formalité ? Expliquez. (2 points)

- d) La marchandise a été détruite dans l'incendie du dépôt de la Poste où elle se trouvait en attente de livraison. Beautifulgarden SA réclame le paiement ce que le client refuse. Qui a raison et pourquoi ? Expliquez. (2 points)

PARTIE 2 : QUESTIONS DIVERSES

9. Journal

points

/ 12

Larissa est une coach sportive. Elle enseigne dans un studio de musculation qu'elle loue à une régie. Elle est propriétaire de son matériel. Elle emploie Henry, qui comme elle, est spécialisé dans l'entraînement musculaire. Elle s'occupe de la comptabilité de son entreprise individuelle.

	Actifs		Charges et produits
1000	Caisse	3200	Ventes d'accessoires pour la musculation
1010	Poste	3209	Déductions accordées
1020	Banque c/c	3210	Frais de ventes
1100	Créances clients	3400	Honoraires / Produits des cours
1200	Stock accessoires	4200	Achats d'accessoires pour la musculation
1500	Appareils de fitness	4209	Déductions obtenues
1510	Mobilier	4270	Frais d'achats
1521	Infrastructure informatique	4280	Variation de stocks
		5200	Salaires
		6000	Loyers
		6100	Entretien des appareils de fitness
		6300	Assurances
		6400	Electricité
	Passifs	6500	Frais d'administration
2000	Dettes fournisseurs	6510	Téléphone, Internet
2010	Autres dettes	6700	ACE
2400	Emprunt bancaire à lt	6740	Différence de caisse
2800	Capital	6800	Amortissements
2850	Privé	6900	Charges financières (Intérêts charges)
		6950	Produits financiers (Intérêts produits)

Remarques

- La saisie du journal se fait à l'aide du nom du compte et non du numéro.
- La colonne « libellé » sert à indiquer les calculs uniquement.
- Le nombre de lignes à disposition ne correspond pas forcément au nombre d'écritures attendues.
- Les sommes sont arrondies aux 5 centimes si nécessaire.
- Ne pas comptabiliser la TVA.

Opérations courantes des mois de novembre et décembre 2016

1. La Poste envoie à Larissa un avis de crédit de CHF 3 000.– relatif aux versements de ses clients pour la vente d'accessoires déjà comptabilisée de CHF 3 130.–. La différence représente l'escompte. (2 points)

Op.	A débiter	A créditer	libellé/calcul	Somme	Somme

2. Larissa comptabilise la facture de CHF 1 800.– d'un fournisseur d'accessoires de musculation destinés à la revente. Larissa règle les frais de livraison par virement postal, CHF 70.–. (2 points)

Op.	A débiter	A créditer	libellé/calcul	Somme	Somme

3. Comptabilisation de l'ordre de paiement adressé à la banque concernant : (3 points)

- CHF 2 800.– pour l'entretien d'appareils de fitness dont la facture était déjà comptabilisée,
- CHF 500.– pour la prime d'assurance maladie de Larissa,
- CHF 2 526.– pour la location du studio de musculation.

Op.	A débiter	A créditer	libellé/calcul	Somme	Somme

4. Les ventes d'haltères et d'élastiques s'élèvent à CHF 600.–. Les clients paient les accessoires au comptant. (1 point)

Op.	A débiter	A créditer	libellé/calcul	Somme	Somme

Opérations de clôture au 31 décembre 2016

5. L'inventaire physique de la caisse de Larissa s'élève à CHF 800.–. Selon le relevé informatique, il devrait y avoir CHF 880.–. Passez l'écriture. (1 point)

Op.	A débiter	A créditer	libellé/calcul	Somme	Somme

6. Larissa comptabilise l'amortissement dégressif (décroissant) de 30 % sur les appareils de fitness. (2 points)

Valeur d'acquisition CHF 97 000.–, valeur comptable CHF 57 715.–.

Op.	A débiter	A créditer	libellé/calcul	Somme	Somme

7. Enregistrement de CHF 150.– sur le c/c bancaire. Il s'agit d'intérêts en faveur de l'entreprise. (1 point)

Op.	A débiter	A créditer	libellé/calcul	Somme	Somme

10. Clôture d'une entreprise individuelle

points

/ 13

La balance de vérification du bilan au 31.12.2016 d'une boutique de vêtements se présente comme suit :

Balance de vérification avant les écritures de boucllement		Soldes	
		Débit	Crédit
2850	Privé	108 000.00	92 000.00
2800	Capital	---	221 000.00
2010	Autres dettes	---	7 000.00
1020	Banque	7 010.00	---
1000	Caisse	3 600.00	---
1100	Créances clients	1 200.00	---
2400	Emprunt bancaire à long terme	---	23 000.00
2000	Dettes fournisseurs	---	18 000.00
2401	Dettes hypothécaires	---	124 000.00
1600	Immeubles	262 000.00	---
1521	Infrastructure informatique	944.00	---
1510	Mobilier	27 240.00	---
1010	Poste	7 366.00	---
1200	Stock de marchandises	48 000.00	---
1530	Véhicules	15 000.00	---

La comptable vous demande d'effectuer la clôture de sa comptabilité. Voici les consignes qu'elle vous donne pour réaliser ce travail. (cf. pages suivantes) (13 points)

- A partir de la balance de vérification, reportez les soldes des comptes Privé et Capital.
- Clôturez le compte de Résultat à 2 degrés.
- Etablissez et clôturez les comptes Privé et Capital.
- Dressez le bilan final ordonné et indiquez les 5 masses.
- Répondez aux différentes questions.

A l'aide du compte de résultat, répondez aux questions :

a) Déterminez le CAN. (1 point)

b) Déterminez le PRAMA. (1 point)

c) Déterminez le PRAMV. (1 point)

d) Au crédit de la balance de vérification dans le compte Privé, le montant indiqué est de CHF 92 000.–. Il s'agit de deux écritures internes. Lesquelles ? (1 point)

e) Indiquez le montant de la variation de fortune et précisez s'il s'agit d'une augmentation ou d'une diminution. (1 point)

11. Valeurs fondamentales / concept d'entreprisepoints / 4

1. Cochez le secteur d'activité qui se rattache aux activités professionnelles suivantes : (3 points)

Secteur d'activité	Primaire	Secondaire	Tertiaire
Eleveur d'huîtres			
Vendeur de fleurs			
Apprenti employé de commerce dans une fiduciaire			
Menuisier			
Apprenti maçon			
Bûcheron			

2. Le commerce équitable repose sur plusieurs principes fondamentaux. Citez un exemple. (1 point)

12. Environnement de l'entreprisepoints / 5

1. Indiquez par une croix quel élément du macro-environnement influence l'activité des entreprises. (3 points)

Situation	Politico-légal	Economique	Socio culturel	Technologique	Ecologique
Le naufrage d'un pétrolier a provoqué la mort de milliers de poissons.					
Les attentats créent des changements dans la manière de voyager.					
Les footballeurs ont lancé la mode du tatouage.					
La révision du Code des obligations entraîne une modification du contrat de bail.					
La BNS baisse le taux directeur.					
La voiture avec pilote automatique est introduite sur le marché.					

2. Citez deux acteurs du micro-environnement qui exercent une influence sur les entreprises. (2 points)

13. Compétences méthodologiques

points

/ 2

Un jeune entrepreneur décide de créer son entreprise. Après avoir effectué une étude de marché, il désire commercialiser une chaussure à talon amovible. Il hésite entre ouvrir une boutique au centre-ville et vendre ses chaussures par Internet.

Citez deux outils qu'il pourrait utiliser pour faire le bon choix. (2 points)

14. Assurances

points

/ 9

1. Un employé de l'entreprise Piguet SA, travaillant à 100 %, se casse la jambe à ski le week-end de Pâques. La LAA prend-elle en charge les coûts d'hospitalisation ? Justifiez votre réponse. (2 points)

2. Lors d'une fête, un invité renverse un verre de jus d'orange sur le tapis blanc du propriétaire de l'appartement. Quelle assurance prendra en charge la réparation des dégâts ? (1 point)

3. Un jeune homme de 18 ans vient de réussir son permis de conduire. Il reçoit en cadeau une voiture neuve.

a) Quelle assurance doit-il conclure obligatoirement ? (1 point)

b) Citez une autre assurance qu'il pourrait ajouter à son contrat d'assurance. (1 point)

4. Qu'est-ce qu'une franchise ? (1 point)

5. Donnez l'objectif de chacun des 3 piliers du système de prévoyance sociale suisse. (3 points)

Piliers	Objectifs
Premier pilier	
Deuxième pilier	
Troisième pilier	

15. Droit public

points

/ 5

1. Citez deux des quatre caractéristiques d'un Etat. (2 points)

2. Complétez le tableau suivant au niveau fédéral : (2 points)

Pouvoir	Pouvoir exécutif	Pouvoir judiciaire
Le parlement (Assemblée fédérale)	Les tribunaux (Tribunaux fédéraux)

3. Combien y-t-il de chambres dans un parlement bicaméral ? (1 point)

16. Procédure législative

points

/ 6

1. Citez deux cas dans lequel un référendum est obligatoire. (2 points)

2. Combien de signatures faut-il récolter pour qu'un référendum facultatif aboutisse et dans quel délai ? (2 points)

3. De qui peut émaner le besoin d'avoir une nouvelle loi ou de modifier une ancienne ? Donnez deux possibilités. (2 points)

17. Droit privé

points

/ 9

1. A quelles conditions acquière-t-on l'exercice des droits civils ? (3 points)

2. Citez deux actes juridiques qu'un mineur capable de discernement peut effectuer seul, c'est-à-dire sans l'accord de son représentant légal. (2 points)

3. Dans le cadre des successions, veuillez compléter le tableau suivant : (2 points)

Première parentèle	
Deuxième parentèle	Les père et mère
Troisième parentèle	

4. Citez deux formes de testament prévues par le Code Civil. (2 points)

18. Besoins et types de biens

points

/ 5

1. Le travail, le capital et le sol sont les trois facteurs de production indispensables à toute entreprise. Pour un agriculteur produisant des pommes de terre, décrivez pour chacun de ces trois facteurs un exemple représentatif. (3 points)

Travail :

Capital :

Sol :

2. A quel besoin correspondent les pommes de terre produites par l'agriculteur ? (1 point)

3. Pourquoi les pommes de terre produites par l'agriculteur ne sont pas un bien libre ? (1 point)

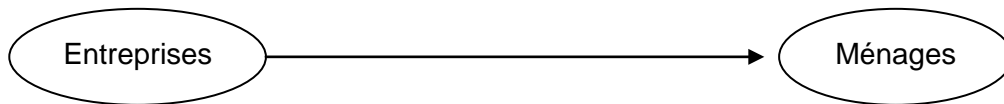
19. Circuit économique, prestations économiques

points

/ 3

1. Quel agent du circuit économique peut à la fois payer des salaires et percevoir des impôts ? (1 point)

2. Indiquez à quel flux monétaire correspond la flèche du schéma ci-dessous : (1 point)



3. Indiquez par une croix si les situations ci-dessous augmentent ou non le PIB d'un pays. (1 point)

Situation	Augmente	N'augmente pas
Le remplacement d'une vitre suite à un cambriolage.		
L'éducation des enfants au sein d'une famille.		

20. Economie de marché

points

/ 4

1. Nommez le marché où il y a un seul vendeur pour de nombreux acheteurs. (1 point)

2. L'intersection des courbes d'offre et de demande nous donne deux informations. Indiquez-les. (2 points)

3. Pourquoi quand les prix montent, la quantité offerte par les vendeurs augmente ? (1 point)

21. Croissance et changement structurelpoints / 3

1. Citez un indicateur permettant de mesurer la croissance économique d'un pays. (1 point)

2. Expliquez la phrase suivante : « Les investissements d'aujourd'hui dans la formation des jeunes pourront créer la croissance économique de demain. » (1 point)

3. Expliquez le lien entre la croissance économique et la pollution. (1 point)

22. Cycle conjoncturelpoints / 2

1. Indiquez par une croix la phase correspondant à chaque situation économique. *Une seule croix par ligne possible.* (2 points)

Situation économique	Reprise (expansion)	Surchauffe (haute conjoncture)	Récession	Dépression (basse conjoncture)
Les capacités de production sont utilisées au maximum.				
Le niveau des stocks est très élevé.				
Les prix s'accroissent modérément.				
Il est très difficile de trouver du personnel, car il y a plein emploi sur le marché du travail.				

23. Globalisation

points

/ 2

1. Citez une mesure qu'un pays pourrait choisir pour protéger son économie du commerce international. (1 point)

2. Indiquez un effet négatif de la globalisation. (1 point)

24. Chômage

points

/ 2

Pour chacun des cas ci-dessous, indiquez par une croix de quel type de chômage il s'agit. (2 points)

Une seule croix par ligne possible.

	Conjoncturel	Structurel	Frictionnel	Partiel	Saisonnier
Une étudiante diplômée est à la recherche de son premier emploi. Elle est momentanément sans emploi, mais au vu de sa formation très recherchée, elle va très rapidement en trouver un.					
Un maçon se retrouve sans travail durant l'hiver.					
Un incendie a détruit une partie de la menuiserie du village. Les employés verront leur temps de travail divisé par deux et seront au chômage l'autre moitié du temps.					
Comme le taux de chômage est élevé dans le pays, les gens n'ont plus les moyens de s'acheter de la viande et le boucher doit licencier un de ses employés.					

25. Déséquilibre des masses monétaires

points

/ 3

1. Quel indice permet de mesurer s'il y a de l'inflation ou de la déflation en Suisse ? (1 point)

2. Quelle est la conséquence de l'inflation sur le pouvoir d'achat des consommateurs ? (1 point)

3. En Suisse, un bien importé de l'étranger peut créer de l'inflation, car en plus d'être une source d'énergie, il est utilisé à grande échelle dans la fabrication d'un large éventail de produits. Quel est ce bien ? (1 point)

26. Partis politiques

points

/ 6

1. Indiquez par une croix si les propositions ci-dessous sont orientées à gauche ou à droite. (2 points)

Propositions	Gauche	Droite
Faire intervenir l'Etat dans l'économie.		
Développer les assurances sociales afin de soutenir les plus défavorisées.		
Défendre la libre-concurrence et la propriété privée.		
Etre relativement proche des syndicats.		

2. Indiquez le nom d'un parti clairement de droite représenté au niveau fédéral. (1 point)

3. Chacune des propositions ci-dessous correspond à une organisation faïtière bien précise. Indiquez-la dans la case vide correspondante. (3 points)

Propositions	Organisation faïtière concernée
Défend l'intérêt des locataires.	
Défend les intérêts des consommateurs en Suisse romande, quant au prix et à la qualité des produits.	
Défend l'intérêt des entreprises et de leurs patrons.	

Index du CO (état le 1^{er} janvier 2013)Le n° indiqué renvoie au 1^{er} article du CO traitant ce sujet

Actes illicites	19	Lettre de change	991
Actions (papiers-valeurs)	622	Libération (actions nominatives)	632
Administration -SA (conseil)	707	(actions au porteur)	683
-Sàrl (définition)	772	Licenciement	335
-Coop (définition)	828	Loyers abusifs	269
Annexe (SA)	663b	Mandataire commercial	462
Arrhes	158	Menus travaux	259
Assemblée générale SA	698	Nullité des contrats	20
Assemblée des associés Sàrl	804	Obligations (papiers-valeurs)	1156
Assemblée générale Coop	879	Offre	3
Bail à loyer	253	Participations (SA)	960d
Capital-participation	656b	Papiers-Valeurs	965
Cautionnement	492	Prescription	127
Cession de créances	164	Prévoyance en faveur du personnel	331
Chèque	1100	Raisons de commerce	944
Clause pénale	160	Registre du commerce	927
Compensation	120	Rente viagère (prescription)	131
Comptabilité commerciale	957	Reprise de dette	175
Congé (abusif, travail)	336	Réserve générale (SA)	671
- (délais, travail)	335b-c	Résiliation immédiate (travail)	337
- (abusif, bail)	271-a	Responsabilité civile	41
- (délais, bail)	266a-c	Rétention (bail commercial)	268
Consignation (bail)	259g	Révocation de la vente par l'acheteur	40e
Contrat d'agence	418a	Société anonyme	620
- d'apprentissage	344	Société coopérative	828
- de commission	425	Société à responsabilité limitée	772
- de mandat	394	Société en nom collectif	552
- de travail (individuel)	319	Société simple	530
Contrat (conclusion)	1	Titres au porteur	978
Crainte fondée	29	Titres nominatifs	974
Débit	158	Vacances (travail)	329a
Défauts de la chose louée	259	Vente immobilière	216
Démarchage	40a	Vente mobilière	187
Demeure (débitteur)	102	Vente par acomptes abrogée, remplacée	
(vendeur)	190	par la LCC et l'OLCC le 01/01/2003	
Dol	28	Vérification de la chose	201
Donation	239		
Echange	237		
Enchères (vente aux)	229		
Enrichissement illégitime	62		
Erreur essentielle	23		
Exécution des obligations	68		
Extinction des obligations	114		
Formation des obligations	1		
Fondé de procuration	458		
Forme des contrats	11		
Garantie (vente immobilière)	219		
(vente mobilière)	197		
Inexécution des obligations	97		

Index du CCS (état le 1^{er} janvier 2013)Le n° indiqué renvoie au 1^{er} article du CCS traitant ce sujet

Acquêts	197	Pacte successoral	494
Adoption	264	Partage (succession)	602
Annulation du mariage	104	Participation aux acquêts	196
Association	60	Personnes morales	52
Autorité parentale	296	Personnes physiques	11
Autorités de protection de l'adulte	360	Possession	919
Biens de famille	335	Prêteurs sur gages	907
Biens des enfants	318	Procédure préparatoire (mariage)	97
Biens propres (régime légal)	198	Propriété	641
Bonne foi	3	-foncière	655
Cédule hypothécaire	842	-mobilière	713
Célébration du mariage	101	-par étages	712a
Charges foncières	782	Quotité disponible	470
Communauté de biens	221	Reconnaissance de paternité	260
Conditions du mariage	94	Régime matrimonial ordinaire	181
Curatelle	390	Registre foncier	942
Curatelle (fin)	399	Répudiation (succession)	566
Discernement	16	Réserve de propriété	715
Divorce	111	Réserve successorale	471
Droits civils (jouissance)	11	Séparation de biens	247
Droits réels	641	Servitudes et charges foncières	730
Education	302	Successions (héritiers légaux)	457
Effets généraux du mariage	159	Superficie (droit)	675
Etat civil	39	Testament	467
Exhérédation	477	Usufruit	745
Famille (dette alimentaire)	328		
Fiançailles	90		
Filiation	252		
Fonctions du curateur	405		
Fondations	80		
Gage immobilier	793		
Gage mobilier	884		
Habitation (droit)	776		
Héritiers légaux	457		
Hypothèque	824		
Majorité civile	14		
Mariage (conditions)	94		
Mise sous curatelle (mineurs)	308		
Nantissement	884		
Nomination du curateur	400		
Obligation d'entretien (enfants)	276		
Ouverture de la succession	537		